

平成 31 年 度

群馬県公立高等学校

入学者選抜学力検査問題

数 学

(後期選抜)

— 注 意 事 項 —

- 1 「始めなさい。」の指示があるまで、問題用紙を開かないこと。
- 2 解答は、全て、解答用紙に記入すること。ただし、(解)とあるところは途中の式などを書くこと。
- 3 「やめなさい。」の指示があったら、直ちに筆記用具を置き、問題用紙と解答用紙の両方を机の上に置くこと。
- 4 問題は、1 ページから 3 ページまであります。また、解答用紙は 2 枚あります。
- 5 解答用紙の、小計の欄には何も書かないこと。

1 次の(1)~(9)の問いに答えなさい。

(1) 次の①~③の計算をなさい。

① -4×3

② $6a^2 \times \frac{1}{2}a$

③ $\frac{x+y}{2} + \frac{x-y}{4}$

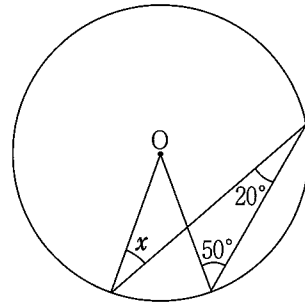
(2) $2 < \sqrt{a} < 3$ を満たす自然数 a を、小さい順にすべて書きなさい。

(3) $x^2 + 5x - 6$ を因数分解しなさい。

(4) $a = 3, b = -4$ のとき、 $(-ab)^3 \div ab^2$ の値を求めなさい。

(5) 2次方程式 $x^2 = 6x$ を解きなさい。

(6) 右の図の円Oにおいて、 $\angle x$ の大きさを求めなさい。



(7) 4枚の硬貨を同時に投げたとき、表と裏が2枚ずつ出る確率を求めなさい。

(8) 底面の半径が3 cm、高さが4 cmである円柱の表面積を求めなさい。

ただし、円周率は π とする。

(9) 右の表は、群馬県内のある市における、平成30年7月の日ごとの最高気温を度数分布表にまとめたものである。次のア~エのうち、この表から読み取れることとして正しいものをすべて選び、記号で答えなさい。

ア 最高気温が 37.0°C の日は、5日あった。

イ 最高気温が 40.0°C 以上の日は、1日もなかった。

ウ 28.0°C 以上 30.0°C 未満の階級の相対度数は、1である。

エ 中央値が含まれるのは、 34.0°C 以上 36.0°C 未満の階級である。

階級 ($^\circ\text{C}$)	度数 (日)
以上 未満	
24.0~26.0	2
26.0~28.0	0
28.0~30.0	1
30.0~32.0	5
32.0~34.0	3
34.0~36.0	6
36.0~38.0	10
38.0~40.0	4
合計	31

2 右の図において、点Oは線分AC上にある。次の(1), (2)の問いに答えなさい。

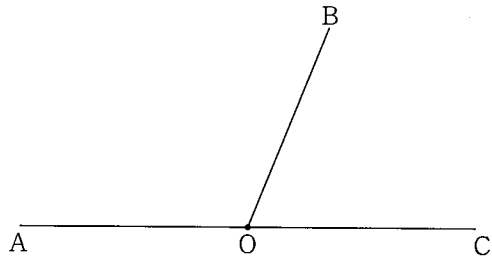
(1) $\angle AOB$ の二等分線OPと、 $\angle BOC$ の二等分線OQを、コンパスと定規を用いてそれぞれ作図しなさい。

ただし、作図に用いた線は消さないこと。

(2) (1)で作図した図形について、次の①, ②の問いに答えなさい。


① $\angle POQ$ の大きさを求めなさい。

② $\angle POQ$ の大きさが①の答となる理由を、 $\angle AOB = \angle a$, $\angle BOC = \angle b$ とにおいて説明しなさい。



3 右のような貯金箱に、100円硬貨3枚と500円硬貨1枚を月に1回ずつ貯金することにした。この貯金をしばらく続けた後、貯金箱の重さを量ったところ、全体の重さは571gであった。このとき、貯金箱の中にある硬貨の合計金額を求めなさい。

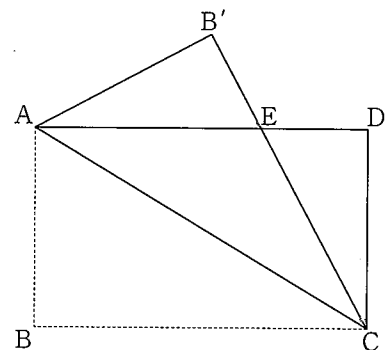
ただし、100円硬貨1枚の重さを4.8g, 500円硬貨1枚の重さを7gとする。また、貯金箱にはもともと硬貨が入っていなかったものとし、貯金箱そのものの重さを250gとする。



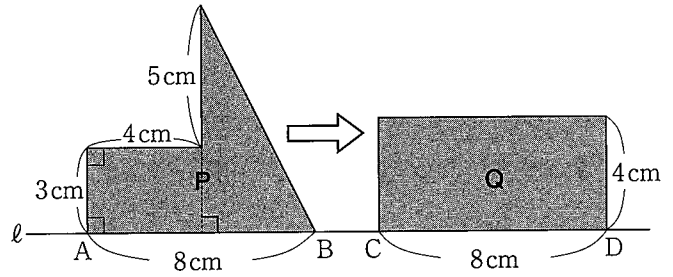
4 右の図のように、長方形ABCDを対角線ACで折り、頂点Bが移動した点をB', ADとB'Cの交点をEとする。次の(1), (2)の問いに答えなさい。

(1) 三角形EACが二等辺三角形であることを証明しなさい。

(2) もとの長方形ABCDにおいて、 $AB = 6\text{ cm}$, $BC = 10\text{ cm}$ とする。AEの長さを求めなさい。



5 直線 l 上に、右の図のような図形 P と長方形 Q がある。 Q を固定したまま、 P を図の位置から l にそって矢印の向きに毎秒 1 cm の速さで動かし、点 B と点 D が重なると同時に停止させるものとする。点 B と点 C が重なってから x 秒後の、2つの図形が重なる部分の面積を $y\text{ cm}^2$ とするとき、次の(1)、(2)の問いに答えなさい。

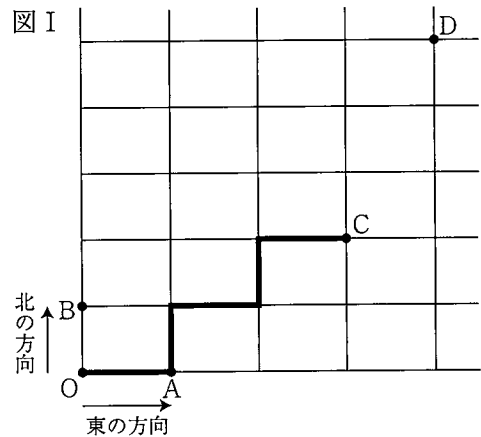


(1) 点 B と点 C が重なってから P が停止するまでの x と y の関係を、重なる部分の図形の種類と x と y の関係を表す式の変化に着目して、次のⅠ～Ⅲの場合に分けて考えた。 、 には適する数を、～ にはそれぞれ異なる式を入れなさい。

- Ⅰ $0 \leq x \leq$ のとき、 y を x の式で表すと、
- Ⅱ $\leq x \leq$ のとき、 y を x の式で表すと、
- Ⅲ $\leq x \leq 8$ のとき、 y を x の式で表すと、

(2) 2つの図形が重なる部分の面積が P の面積の半分となるのは、点 B と点 C が重なってから何秒後か、求めなさい。

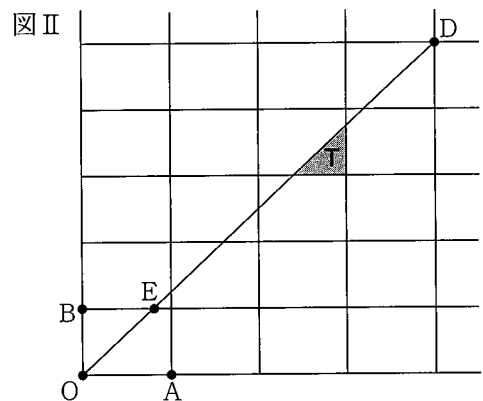
6 図Ⅰのように、すべての道路が直角に交わっている町がある。4本の道路に囲まれた長方形はすべて合同であり、点 O 、 A 、 B 、 C 、 D のように長方形の頂点に位置している点を交差点と呼ぶことにする。



北の方向または東の方向にだけ道路を進み、交差点 O から交差点 C まで最短経路で移動したときの距離の合計は 180 m であり、交差点 C から交差点 D まで最短経路で移動したときの距離の合計は 130 m であった。次の(1)、(2)の問いに答えなさい。

なお、図Ⅰの道路に示した太線は、交差点 O から交差点 C までの最短経路の1つを示したものである。

- (1) OA と OB の長さをそれぞれ求めなさい。
- (2) 図Ⅱのように、交差点 O から交差点 D まで真つすぐな道路を新たにつくった。次の①、②の問いに答えなさい。



- ① 道路 OD を交差点 O から交差点 D に向かって進み、最初に道路と交わる点を E とする。このとき、 BE の長さを求めなさい。
- ② 図Ⅱで色を付けて示した三角形の土地 T の面積を求めなさい。