

数 学

6 数 学

注 意

- 1 問題は **1** から **5** までで、5 ページにわたって印刷してあります。
また、解答用紙は両面に印刷してあります。
- 2 検査時間は 50 分で、終わりは午前 11 時 00 分です。
- 3 声を出して読むではいけません。
- 4 計算が必要なときは、この問題用紙の余白を利用しなさい。
- 5 答えは全て解答用紙に **H B** 又は **B** の鉛筆（シャープペンシルも可）を使って
明確に記入し、**解答用紙だけを提出しなさい。**
- 6 答えに分数が含まれるときは、それ以上約分できない形で表しなさい。
例えば、 $\frac{6}{8}$ と答えるのではなく、 $\frac{3}{4}$ と答えます。
- 7 答えに根号が含まれるときは、**根号の中を最も小さい自然数にしなさい。**
例えば、 $3\sqrt{8}$ と答えるのではなく、 $6\sqrt{2}$ と答えます。
- 8 答えを選択する問題については、**特別の指示のあるもののほかは**、各問の
ア・イ・ウ・エのうちから、最も適切なものをそれぞれ 1 つずつ選んで、その
記号の の中を正確に塗りつぶしなさい。
- 9 の中の数字を答える問題については、「あ、い、う、…」に当てはまる
数字を、下の〔例〕のように、0 から 9 までの数字のうちから、それぞれ 1 つずつ
選んで、その数字の の中を正確に塗りつぶしなさい。
- 10 答えを記述する問題（答えを選択する問題、 の中の数字を答える問題
以外のもの）については、解答用紙の決められた欄からはみ出さないように
書きなさい。
- 11 答えを直すときは、きれいに消してから、消しくずを残さないようにして、
新しい答えを書きなさい。
- 12 **受検番号**を解答用紙の表面と裏面の決められた欄に書き、表面については、
その数字の の中を正確に塗りつぶしなさい。
- 13 解答用紙は、汚したり、折り曲げたりしてはいけません。

〔例〕 に 12 と答えるとき

あ	<input type="radio"/> 0	<input checked="" type="radio"/> 1	<input type="radio"/> 2	<input type="radio"/> 3	<input type="radio"/> 4	<input type="radio"/> 5	<input type="radio"/> 6	<input type="radio"/> 7	<input type="radio"/> 8	<input type="radio"/> 9
い	<input type="radio"/> 0	<input type="radio"/> 1	<input checked="" type="radio"/> 2	<input type="radio"/> 3	<input type="radio"/> 4	<input type="radio"/> 5	<input type="radio"/> 6	<input type="radio"/> 7	<input type="radio"/> 8	<input type="radio"/> 9

問題は1ページからです。

1 次の各問に答えよ。

〔問1〕 $-6^2 \times \frac{1}{9} - 4$ を計算せよ。

〔問2〕 $2a + b - \frac{5a + b}{3}$ を計算せよ。

〔問3〕 $(\sqrt{7} - 1)(\sqrt{7} + 6)$ を計算せよ。

〔問4〕 一次方程式 $2x - 8 = -x + 4$ を解け。

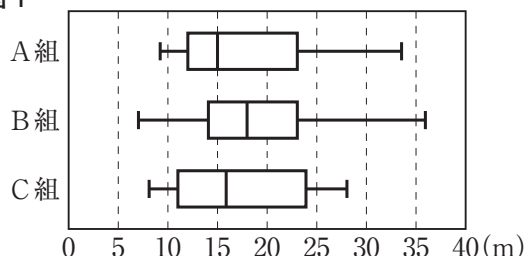
〔問5〕 連立方程式 $\begin{cases} 5x + 7y = 9 \\ 3x + 4y = 6 \end{cases}$ を解け。

〔問6〕 二次方程式 $(x - 8)^2 = 1$ を解け。

〔問7〕 右の図1は、ある中学校第2学年の、A組、B組、C組それぞれ生徒37人のハンドボール投げの記録を箱ひげ図に表したものである。

図1から読み取れることとして正しいものを、次のア～エのうちから選び、記号で答えよ。

図1



- ア A組、B組、C組のいずれの組にも、記録が30mを上回った生徒がいる。
- イ A組、B組、C組の中で、最も遠くまで投げた生徒がいる組はC組である。
- ウ A組、B組、C組のいずれの組にも、記録が15mの生徒はいない。
- エ A組、B組、C組の中で、四分位範囲が最も小さいのはB組である。

〔問8〕 次の□の中の「あ」「い」に当てはまる数字をそれぞれ答えよ。

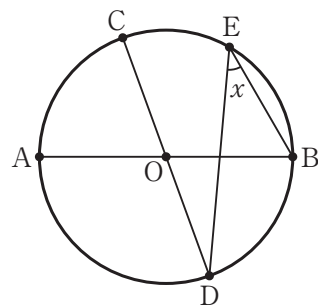
右の図2で、点Oは、線分ABを直径とする円の中心であり、3点C、D、Eは円Oの周上にある点である。

5点A、B、C、D、Eは、右の図2のように、A、D、B、E、Cの順に並んでおり、互いに一致しない。

点Bと点E、点Cと点D、点Dと点Eをそれぞれ結ぶ。

線分CDが円Oの直径、 $\widehat{AC} = \frac{2}{5} \widehat{AB}$ のとき、 x で示した $\angle BED$ の大きさは、□度である。

図2

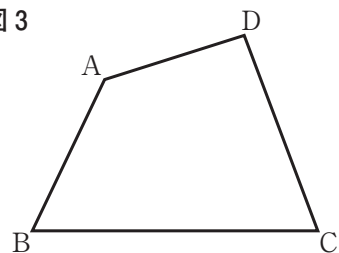


〔問9〕 右の図3で、四角形ABCDは、 $\angle BAD$ が鈍角の四角形である。

解答欄に示した図をもとにして、四角形ABCDの辺上にあり、辺ABと辺ADまでの距離が等しい点Pを、定規とコンパスを用いて作図によって求め、点Pの位置を示す文字Pも書け。

ただし、作図に用いた線は消さないでおくこと。

図3



2 Sさんのクラスでは、先生が示した問題をみんなで考えた。
次の各問に答えよ。

[先生が示した問題]

a, b を正の数とする。

右の図1で、 $\triangle ABC$ は、 $\angle BAC = 90^\circ$ 、
 $AB = a$ cm、 $AC = b$ cmの直角三角形である。

右の図2に示した四角形AEDCは、

図1において、辺BCをBの方向に延ばした直線上にあり
 $BC = BD$ となる点をDとし、
 $\triangle ABC$ を頂点Bが点Dに一致するように平行移動させたとき、
頂点Aが移動した点をEとし、頂点Aと点E、点Dと点Eを
それぞれ結んでできた台形である。

四角形AEDCの面積は、 $\triangle ABC$ の面積の何倍か求めなさい。

図1

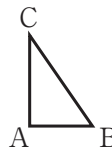
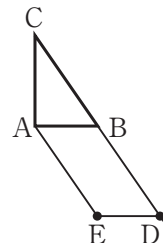


図2



[問1] 次の□の中の「う」に当てはまる数字を答えよ。

[先生が示した問題]で、四角形AEDCの面積は、
 $\triangle ABC$ の面積の□う□倍である。

Sさんのグループは、[先生が示した問題]をもとにして、次の問題を作った。

[Sさんのグループが作った問題]

a, b, x を正の数とする。

右の図3に示した四角形AGHCは、図1において、
辺ABをBの方向に延ばした直線上にある点をFとし、
 $\triangle ABC$ を頂点Aが点Fに一致するように平行移動させたとき、
頂点Bが移動した点をG、頂点Cが移動した点をHとし、
頂点Cと点H、点Gと点Hをそれぞれ結んでできた台形である。

右の図4に示した四角形ABJKは、図1において、
辺ACをCの方向に延ばした直線上にある点をIとし、
 $\triangle ABC$ を頂点Aが点Iに一致するように平行移動させたとき、
頂点Bが移動した点をJ、頂点Cが移動した点をKとし、
頂点Bと点J、点Jと点Kをそれぞれ結んでできた台形である。

図3において、線分AFの長さが辺ABの長さの x 倍となる
ときの四角形AGHCの面積と、図4において、線分AIの
長さが辺ACの長さの x 倍となるときの四角形ABJKの
面積が等しくなることを確かめてみよう。

図3

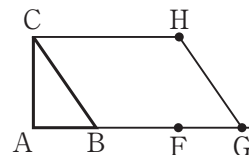
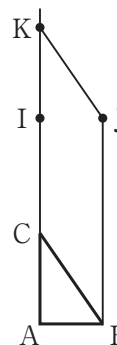
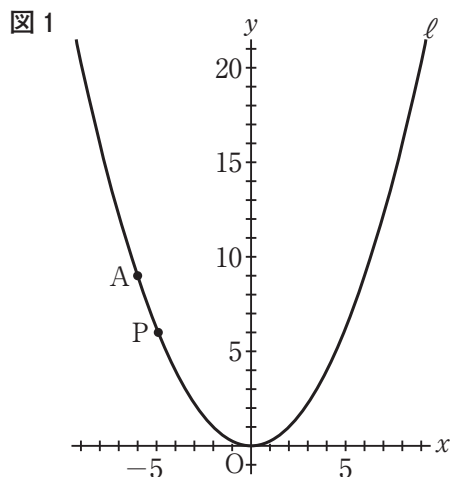


図4



[問2] [Sさんのグループが作った問題]で、四角形AGHCの面積と
四角形ABJKの面積を、それぞれ a, b, x を用いた式で表し、
四角形AGHCの面積と四角形ABJKの面積が等しくなることを証明せよ。

3 右の図1で、点Oは原点、曲線ℓは関数 $y = \frac{1}{4}x^2$ のグラフを表している。点Aは曲線ℓ上にあり、x座標は-6である。曲線ℓ上にある点をPとする。次の各問に答えよ。



〔問1〕 次の ① と ② に当てはまる数を、下のア～クのうちからそれぞれ選び、記号で答えよ。

点Pのx座標をa、y座標をbとする。
aのとり値の範囲が $-3 \leq a \leq 1$ のとき、
bのとり値の範囲は、

$$\text{①} \leq b \leq \text{②}$$

である。

- | | | | | | | | |
|---|----------------|---|----------------|---|----------------|---|---------------|
| ア | $-\frac{9}{4}$ | イ | $-\frac{3}{2}$ | ウ | $-\frac{3}{4}$ | エ | 0 |
| オ | $\frac{1}{4}$ | カ | $\frac{1}{2}$ | キ | $\frac{3}{2}$ | ク | $\frac{9}{4}$ |

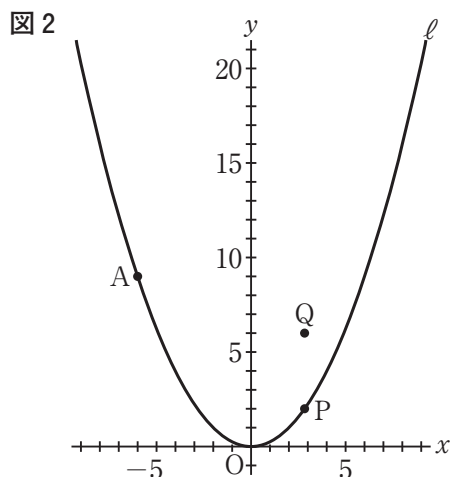
〔問2〕 次の ③ と ④ に当てはまる数を、下のア～エのうちからそれぞれ選び、記号で答えよ。

右の図2は、図1において、x座標が点Pのx座標と等しく、y座標が点Pのy座標より4大きい点をQとした場合を表している。

点Pのx座標が2のとき、
2点A、Qを通る直線の式は、

$$y = \text{③}x + \text{④}$$

である。



- | | | | | |
|---|-----|-----------------|------------------|------|
| ③ | ア 2 | イ $\frac{1}{2}$ | ウ $-\frac{1}{2}$ | エ -2 |
| ④ | ア 6 | イ 5 | ウ 4 | エ 1 |

〔問3〕 図2において、点Pのx座標が3より大きい数であるとき、点Qを通り傾き $\frac{1}{2}$ の直線を引き、y軸との交点をRとし、点Oと点A、点Aと点R、点Pと点Q、点Pと点Rをそれぞれ結んだ場合を考える。

△AORの面積が△PQRの面積の3倍になるとき、点Pのx座標を求めよ。

4 右の図1で、四角形ABCDは、

AB < ADの長方形である。

辺BCの中点をMとする。

点Pは、線分CM上にある点で、

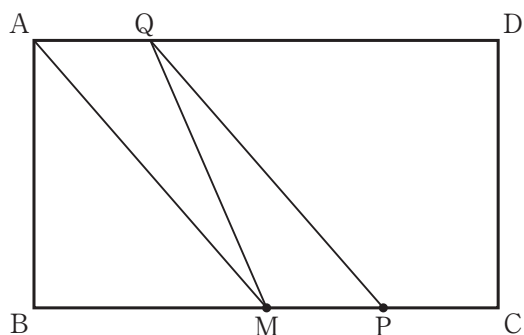
頂点C、点Mのいずれにも一致しない。

頂点Aと点Mを結び、点Pを通り線分AMに
平行な直線を引き、辺ADとの交点をQとする。

点Mと点Qを結ぶ。

次の各問に答えよ。

図1



〔問1〕 図1において、 $AB = BM$ 、 $\angle AQM = a^\circ$ とするとき、 $\angle MQP$ の大きさを
表す式を、次のア～エのうちから選び、記号で答えよ。

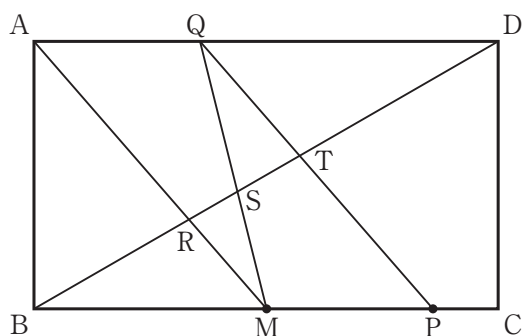
- ア $(180 - a)$ 度 イ $(135 - a)$ 度 ウ $(a - 90)$ 度 エ $(a - 45)$ 度

〔問2〕 右の図2は、図1において、

頂点Bと頂点Dを結び、線分BDと、
線分AM、線分MQ、線分PQとの
交点をそれぞれR、S、Tとした
場合を表している。

次の①、②に答えよ。

図2

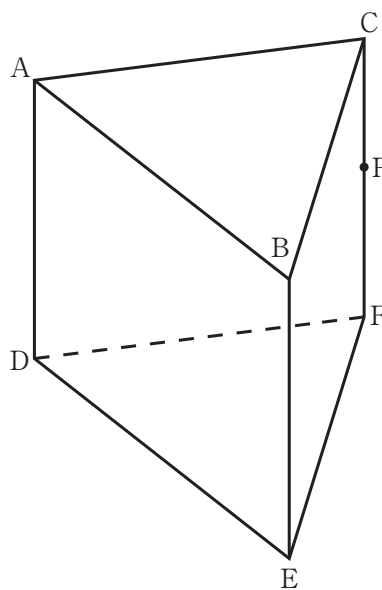


① $\triangle BMR \sim \triangle DQT$ であることを証明せよ。

② 次の□の中の「え」「お」「か」に当てはまる数字をそれぞれ答えよ。

図2において、 $MP : PC = 3 : 1$ のとき、線分STの長さ
と線分BDの長さの比を最も簡単な整数の比で表すと、 $ST : BD = \square \text{え} : \square \text{おか}$ である。

- 5 右の図に示した立体 $ABC-DEF$ は、
 $AB = AD = 6 \text{ cm}$, $AC = BC = 5 \text{ cm}$,
 $\angle BAD = \angle CAD = 90^\circ$ の三角柱である。
 辺 CF 上にあり、頂点 C , 頂点 F のいずれにも
 一致しない点を P とする。
 次の各問に答えよ。



- [問1] 次の 中の「き」「く」に当てはまる数字をそれぞれ答えよ。
 線分 AB の中点を M とし、点 M と点 P を結んだ場合を考える。
 $\angle BMP$ の大きさは、 度である。
- [問2] 次の 中の「け」「こ」に当てはまる数字をそれぞれ答えよ。
 頂点 A と点 P , 頂点 B と点 P , 頂点 D と点 P , 頂点 E と点 P をそれぞれ結んだ
 場合を考える。
 立体 $P-ADEB$ の体積は、 cm^3 である。